



DIAGNOS MTi1

Namn _____ Klass _____


1 Hur mycket är klockan?



a) _____



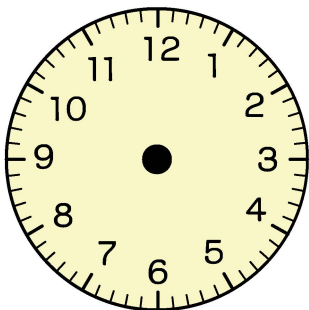
b) _____



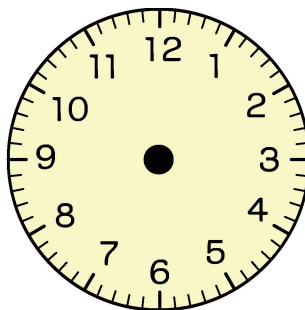
c) _____

2 Rita hur visarna står när klockan är:

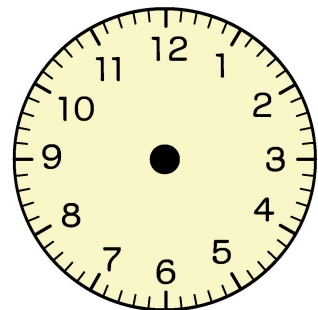
a) kvart över 12



b) 20 minuter i 6



c) 5 minuter i halv 9



3 a) Hur många kvartar är en timma? _____

b) Hur många minuter är en halv timma? _____

c) Hur många sekunder är en minut? _____

d) Hur många minuter är en kvart? _____

e) Hur många minuter är en och en halv timma? _____

f) Hur många timmar är ett dygn? _____